

**Школьного этапа всероссийской олимпиады школьников
по географии.**

2018 – 2019 учебный год.

Максимальное количество баллов – 52.

Время выполнения заданий - 90 минут.

ШКОЛЬНЫЙ ЭТАП. 11 КЛАСС.

I. Тестовый раунд

В каждом вопросе (1-20) выберите только один верный ответ.

1. Выберите из предложенного списка страну, которая в прошлом была колонией Франции:

- 1) Индонезия; 2) Тунис; 3) Нигерия; 4) Алжир;

2. Укажите вариант, в котором представлены крупнейшие городские агломерации России:

- 1) Ростов-на-Дону, Ярославль, Владивосток; 2). Самара, Нижний Новгород, Екатеринбург;
3) Москва, Иркутск, Чита; 4) Калининград, Санкт-Петербург, Псков.

3. К рудным полезным ископаемым относится:

- 1) калийная соль; 2) известняк; 3) бокситы; 4) каменный уголь.

4. Ареал распространения какой мировой религии показан на картосхеме черным цветом?



- 1) православие; 2) буддизм; 3) ислам; 4) католицизм.

5. К новым индустриальным странам относится:

- 1) Турция; 2) Малайзия; 3) Аргентина; 4) Вьетнам.

6. Выберите вариант, в котором представлены только самые крупнейшие морские порты мира:

- 1) Нагоя, Хьюстон, Антверпен, Тиба; 2) Гамбург, Сан-Луис, Ванкувер, Иокогама;
3) Амстердам, Хошимин, Ричардс-Бей, Кобе; 4) Шанхай, Сингапур, Тяньцзинь, Гуанчжоу.

7. Какой японский остров называют «силиконовым» из-за повышенной концентрации предприятий микроэлектроники:

- 1) Хонсю 2) Хоккайдо; 3) Сикоку; 4) Кюсю

8. Выберите вариант, в котором присутствуют только страны монархии-княжества:

- 1) Япония, Люксембург, Ватикан; 2) Норвегия, Швеция, Дания;
3) Андорра, Монако, Лихтенштейн; 4) Марокко, Иордания, Саудовская Аравия.

9. О каком явлении циркуляции атмосферы идет речь: «Имеет высокое давление в центре вихря, воздух движется от центра к окраинам, отклоняясь по часовой стрелке, погода малооблачная и засушливая летом, ясная и морозная зимой, наибольшую активность проявляют на юге Русской равнины и в Восточной Сибири»:

- 1) холодный фронт; 2) теплый фронт; 3) антициклон; 4) циклон.

10. О каком материке идет речь, если его эндемичными растениями являются: гевея, дерево какао, хинное дерево, сейба, а эндемичными животными: броненосец, муравьед, ленивец, анаконда, кондор, колибри, шиншилла, лама, тапир?

- 1) Африка; 2) Австралия; 3) Северная Америка; 4) Южная Америка.

11. К какому виду природных ресурсов относится энергия ветра?

- 1) неисчерпаемым; 2) исчерпаемым возобновимым;
3) исчерпаемым невозобновимым; 4) не относится к природным ресурсам.

12. Выберите вариант ответа, в котором представлены только государства с республиканской формой правления:

- 1) Алжир, Марокко, Мозамбик 2) Италия, Испания, Китай;
3) Швейцария, Австрия, Сингапур; 4) Дания, Австралия, Венесуэла

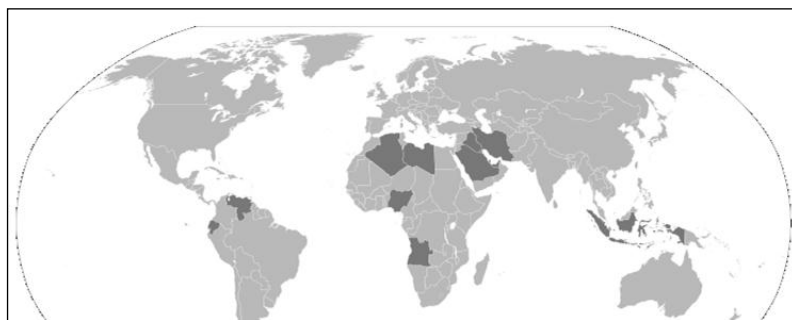
13. Самая плотно населенная аграрная страна в мире – это:

- 1) Бельгия; 2) Нидерланды; 3) Бангладеш; 4) Япония.

14. Какой ученый считается «отцом» теории глобальной тектоники плит?

- 1) Ньютон; 2) Вегенер; 3) Эйнштейн; 4) Докучаев.

15. Страны-члены какой международной экономической организации выделены на картосхеме черным цветом?



- 1) ОПЕК; 2) ЕС; 3) Большая семерка; 4) ООН.

16. Найдите ошибку в перечне основных экспортеров зерна на мировой рынок:

- 1) Таиланд; 2) США; 3) Канада; 4) Франция.

17. Центром черной металлургии Центрально-Черноземного района является:

- 1) Магнитогорск; 2) Новокузнецк; 3) Липецк; 4) Челябинск.

18. Используя данные таблицы, рассчитайте коэффициент смертности для государства X и выберите правильный ответ из предложенных:

Страна	Численность населения, млн. чел.	Коэффициент рождаемости, ‰	Естественный прирост, ‰	Коэффициент младенческой смертности, ‰	Средняя ожидаемая продолжительность жизни, лет
X	46,71	8,8	-5,6	9,9	70

- 1) 3,2; 2) 18,7; 3) 14,4; 4) 4,3.

19. Исследователь Ушаков назвал это природное явление «улыбкой Арктики».

- 1) Полярный день 2) Полярная ночь 3) Северное сияние 4) Дрейфующие льды

20. Подпиши флаги международных организаций:



.....
.....

II. Аналитический раунд

Задание 1.

Какой народ в конце 19 века путешественник описывает следующим образом:

Скотоводство составляет единственное и исключительное занятие этого народа. Промышленность у них самая ничтожная и ограничивается только выделкой некоторых предметов, необходимых в домашнем быту: кож, войлоков, седел, луков; изредка приготавливаются огнива и кожи. Все же прочие предметы домашней обстановки и одежды они приобретают от китайцев и, в самом небольшом числе, от русских торговцев.

На территории каких государств проживает этот народ в настоящее время? Какие географические условия были необходимы для существования этого народа в средние века, когда он был многочисленным? Почему в те времена набеги этого народа на поселения северных и южных областей долгое время носили циклический характер?

Ответ:

Народ

Страны проживания

Объяснение



Задание 2. Определите страну X и ее соседей, если о соседях известно вот что:






О первом:	Назывался Сиам	
О втором:	Известен под аббревиатурой СРВ	
О третьем:	Французы называют его Шин	
Страна X:	Лаос	


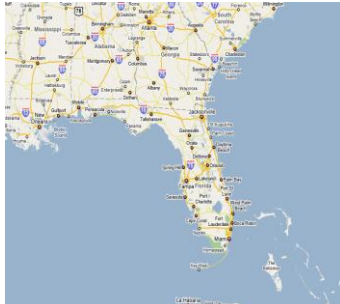
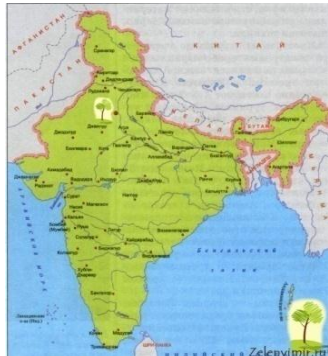
Результаты впишите в третью колонку таблицы.

Задание 3. «Знакомые очертания»

Определи полуостров по его изображению и ответьте на вопросы, касающиеся каждого из них. Результат занесите в таблицу.

№	Изображение	Название объекта	Особенности объекта
1.			1. Название полуострова на востоке _____; 2. Название косы на северо-восток _____
2.			Две крупные страны, расположенные на этом полуострове: 1. _____; 2. _____.

3.			<p>Две крупные страны, расположенные на этом полуострове:</p> <p>1. _____;</p> <p>2. _____.</p>
4.			<p>1. Название океана, в который вдается этот полуостров: _____</p> <p>2. Название региона России, который частично расположен на этом полуострове: _____.</p>
5.			<p>1. Название страны, в основном располагающейся в границах этого полуострова: _____.</p>
6.			<p>1. Самая крупная страна на полуострове: _____.</p> <p>2. Залив на северо-востоке полуострова: _____.</p>
7.			<p>1. К территории какой страны относится полуостров: _____.</p>

8.			<p>Назовите две страны, территории которых полностью расположены на этом полуострове:</p> <p>1. _____;</p> <p>2. _____.</p>
9.			<p>1. К какой стране относится этот полуостров:</p> <p>_____.</p>
10.			<p>1. Какая страна занимает практически полностью территорию этого полуострова:</p> <p>_____.</p>